

StepOneKids

学習塾ステップワン オリジナル教材 幼児向けシリーズ

無料サンプル  
ダイジェスト版

分野別くりかえし

# 長さくらべ

この教材は  
「分野別くりかえし 長さくらべ」から  
一部を抜き出したものです。



・教材の購入はこちら・

 のびラボ!

<http://nobilabo.com>

ステップワン  
StepOne

※当教材データの複製、配布、譲渡、転売等を禁じます。  
※当教材の記載内容の一切について無断転載や複写、引用等を禁じます。

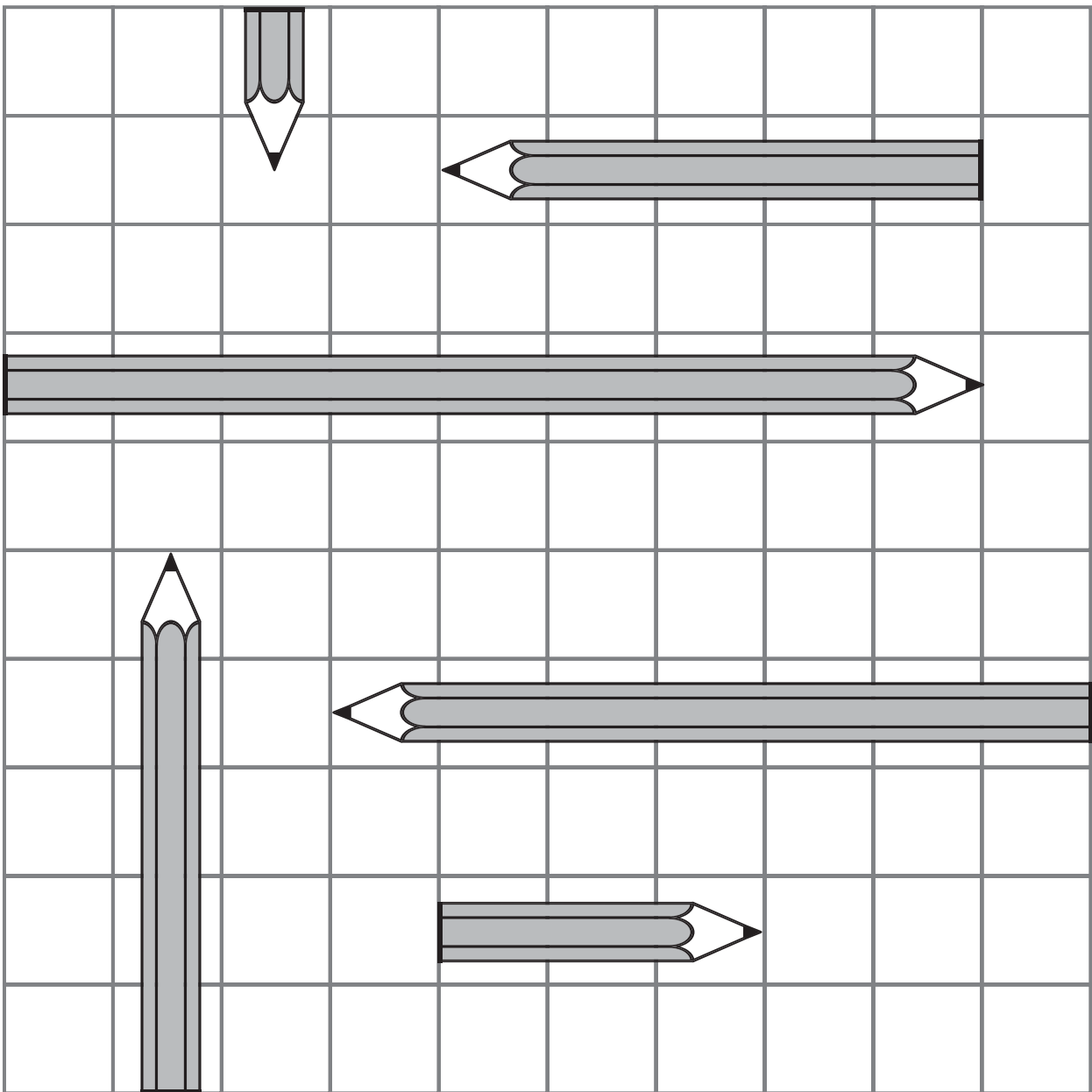
© 2014 Step One All Rights Reserved.

# 問題 1

分野別くりかえし  
長さくらべシリーズ・SAMPLE

いちばん<sup>なが</sup>長いものには□を、

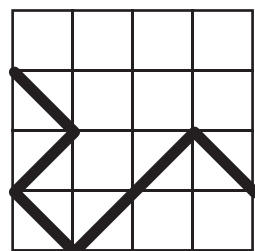
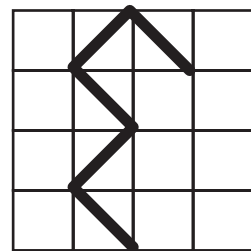
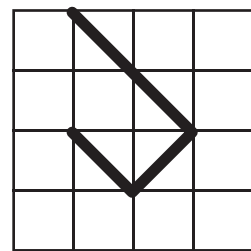
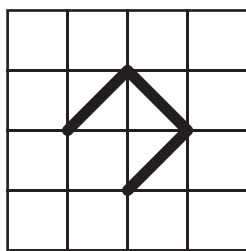

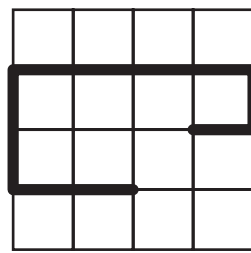


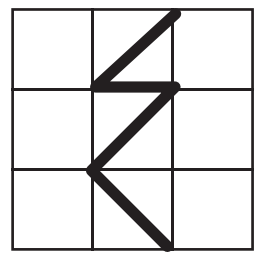
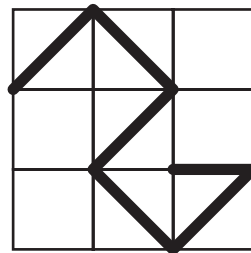
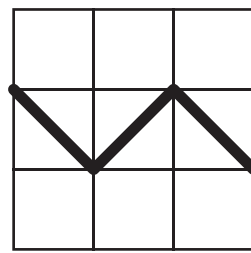
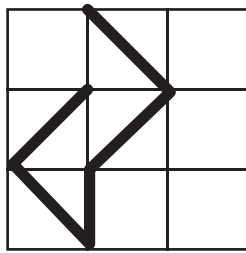



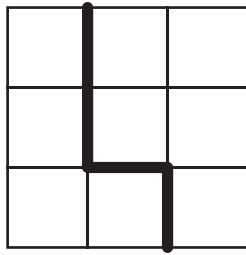
3ばんめ<sup>なが</sup>に長いものには×をつけましょう。



# 問題 2

分野別くりかえし  
長さくらべシリーズ・SAMPLE

いちばん<sup>なが</sup>長いものに○を、いちばん<sup>みじか</sup>短いものに×をつけましょう。

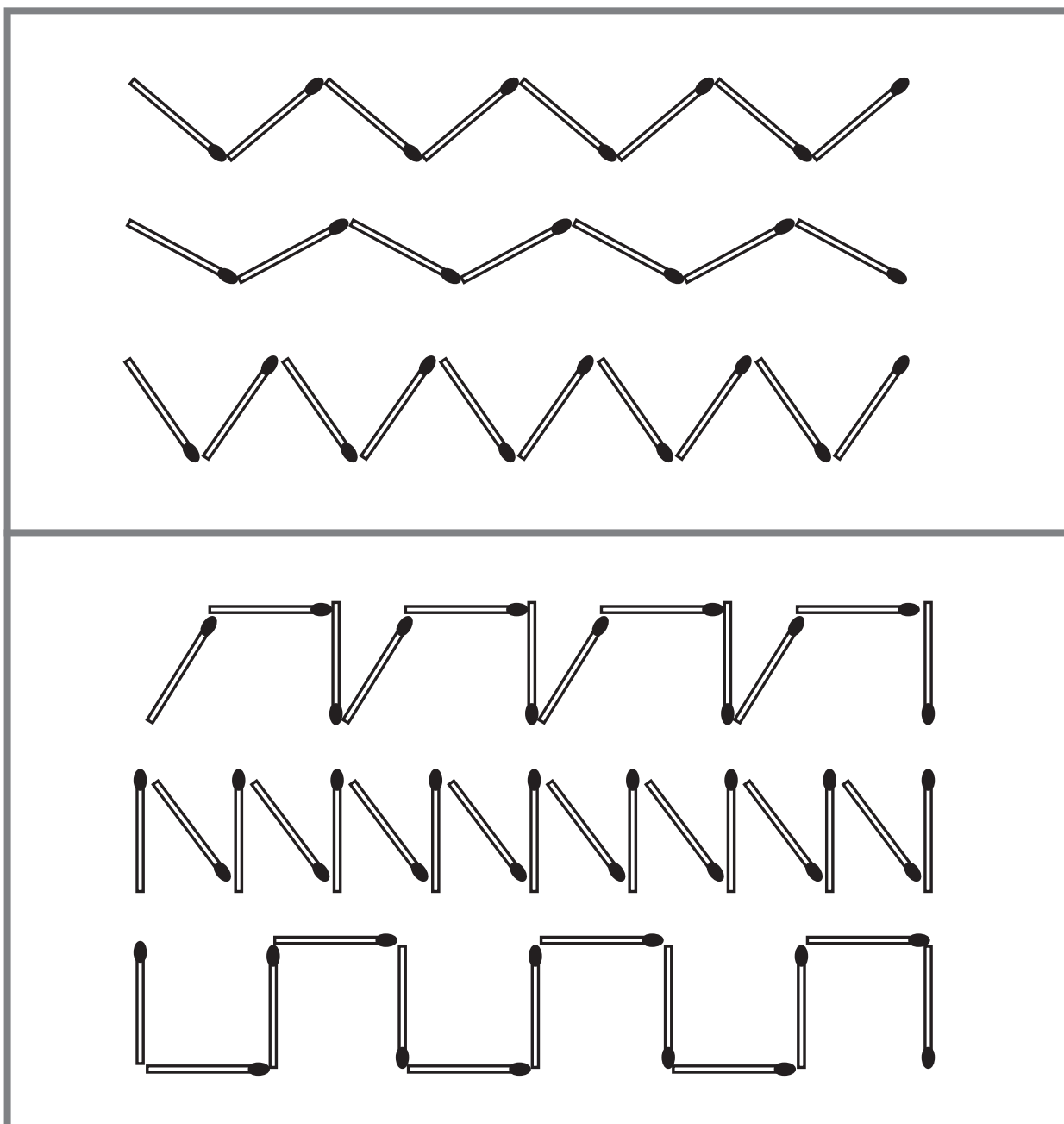
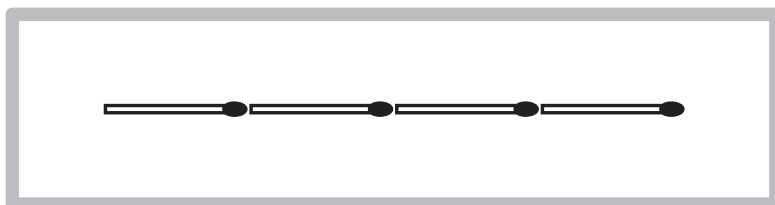


# 問題 3

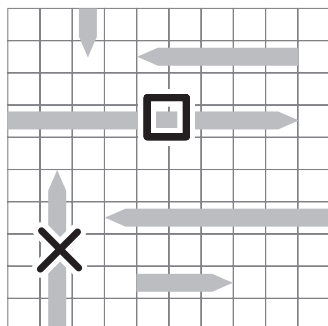
分野別くりかえし  
長さくらべシリーズ・SAMPLE

した  
下のそれぞれのマッチを、上の見本のようになら  
まっすぐに並べたときに  
なが  
いちばん長くなるものはどれですか。

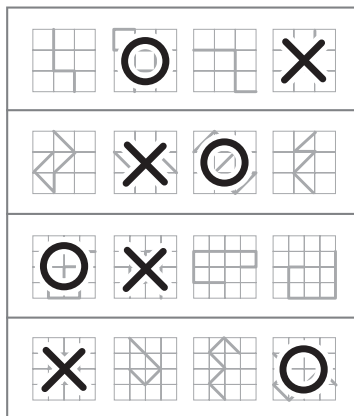
え  
絵の上に○をかきましょう。



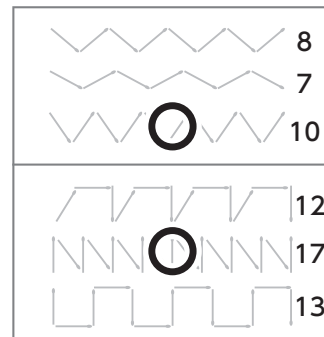
### 問題 1



### 問題 2



### 問題 3




※解答例は簡略表記のため、わかりやすく大きめに表記しています。

もっと  
やろう!

製品版のご購入はこちら

のびラボ!

<http://nobilabo.com>



よろしければ facebook にいいね!をお願いします♪

<http://www.facebook.com/nobilabo>